

ВСЕРОССИЙСКАЯ ОЛИМПИАДА ШКОЛЬНИКОВ
ПО ИСТОРИИ. 2018–2019 уч. г.
МУНИЦИПАЛЬНЫЙ ЭТАП. 7 КЛАСС

В заданиях 1–3 дайте один верный ответ. Ответ внесите в таблицу.

1. Какому историческому событию (процессу) посвящён представленный отрывок?

«На христиан арабы бурей мчатся,
И молвит Оливье: “Враги пред нами,
И далеко ушли дружины Карла.
Когда бы в рог подуть вы пожелали,
Поспел бы к нам на помощь император...”»

- 1) сражение при Гастингсе
- 2) битва в Ронсевальском ущелье
- 3) сражение при Азенкуре
- 4) битва при Лепанто

2. Прочитайте отрывок из литературного произведения и укажите название произведения.

«Носил он имя Зигфрид и, к славе сердцем рьян,
Перевидал немало чужих краёв и стран,
Отвагою и мощью везде дивя людей.
Ах, сколько он в Бургундии нашёл богатырей!»

- 1) «Песнь о верном Сиде»
- 2) «Песнь о Нибелунгах»
- 3) «Песнь о Роланде»
- 4) Эпос о Гильгамеше

3. Какой термин из представленных связан с политическим устройством Флоренции в Средние века?

- 1) гонфалоньер
- 2) маркиз
- 3) дож
- 4) бургомистр

Ответы.

1	2	3

Максимум 6 баллов за задания 1–3.

В заданиях 4 и 5 выберите несколько верных ответов из предложенных. Ответы внесите в таблицу.

4. Ниже приведён список названий государств. Укажите те из них, которые были созданы в результате походов крестоносцев.

- 1) Эдесское графство
- 2) Антиохийское княжество
- 3) Лимбургское герцогство
- 4) Конийский султанат
- 5) Иерусалимское королевство
- 6) герцогство Беневенто

5. Ниже приведён список названий городов и княжеств Руси. Укажите те из них, которые входили в состав Московского княжества к началу XV века.

- 1) Нижний Новгород
- 2) Торжок
- 3) Галичские и Белозерские земли
- 4) Брянская земля
- 5) Пронское княжество
- 6) Муромская земля

Ответы.

4	5

Максимум 6 баллов за задания 4, 5.

6. Перед Вами перечень событий, произошедших в истории трёх различных государств. Под названиями государств поставьте номера событий, произошедших в их истории.

- 1) завоевание манора Ирландия
- 2) заключение Кальмарской унии
- 3) учреждение швейцарской гвардии для охраны высшего должностного лица этого государства
- 4) правление Иоанна Безземельного
- 5) правление Густава Васы
- 6) крестьянское восстание под предводительством Уота Тайлера
- 7) формирование государства по праву «Константинова дара»
- 8) присоединение Романьи (Равеннского экхархата)
- 9) открытие Упсальского университета





Ответ:

Государство	Англия	Швеция	Папская область
Событие			

Максимум за задание – 9 баллов.

7. Дайте краткое обоснование ряда (что объединяет перечисленные элементы с исторической точки зрения) и укажите, какой из элементов является лишним по данному основанию.

7.1.

А) Роспись Успенского собора во Владимире	Б) «Троица»
	
В) Икона «Спас Вседержитель»	Г) Роспись Ферапонтова монастыря
	

7.2. Тверское княжество, Ростовское княжество, Ярославское княжество, Московское княжество, Смоленское княжество.

Ответ.

7.1.

7.2.

Максимум за задание – 8 баллов.

8. Что с исторической точки зрения объединяет перечисленные в ряду элементы? Дайте максимально точный ответ.

8.1. 907, 941, 944, 970–971.

8.2. Михаил Ярославич, Дмитрий Грозные Очи, Михаил Александрович, Михаил Борисович.

Ответ.

8.1.

8.2.

Максимум за задание – 6 баллов.

9. Расположите события в хронологической последовательности. Ответы внесите в таблицу.

- А) «Литовщина»
- Б) присоединение Новгорода к Москве
- В) смерть митрополита Феогноста
- Г) окончание Столетней войны
- Д) открытие Америки Христофором Колумбом
- Е) тверское восстание

Ответ.

1	2	3	4	5	6

Максимум за задание – 5 баллов.

10. Вашему вниманию представлены фрагменты из юмористической книги «Всеобщая история, обработанная Сатириконом» (1910 г.). Прочитайте отрывки и вставьте в таблицу пропущенные в тексте имена, названия.

А) «Сын Генриха Птицелова, [имя правителя (1)], окончательно победил венгров. Чтобы как-нибудь оправдать эпитет “Великий”, он присоединил к своим владениям северную Италию и принял императорскую корону. В Риме тогда папствовал очень неприятный папа Иоанн XII. Он даже толком короны не мог держать. Он уволил его без прошения, и его преемник возложил на него корону [название государства (2)]. Таким образом, буквально повторилась история с коронованием Карла Великого».

Б) «На Каталаунской равнине (Шампань) прошла битва народов, и он [имя вождя (3)] принужден был повернуть обратно за Рейн. Здесь, возвращаясь

по той же дороге, он пожалел о своем афоризме насчет травы¹, так как лошадям надо же было чем-нибудь кормиться».

В) «Светская власть [церковный сан (4)] увеличивалась изо дня в день. Григорий Великий, “раб рабов Божьих” (Servus servorum Die) – особенно заботился о возвышении папского престола. Он так ревностно распространял христианство, где только мог».

Г) «В Галлии в эпоху падения Западной Римской империи самым сильным народом были франки. Их конунг [имя конунга (5)] положил основание могущественной франкской монархии. Это вообще была очень примечательная личность, и, живи он в наш век, он, без сомнения, был бы одним из выдающихся певцов Европы. Сила его голоса была изумительна: в битве с аллеманами, когда неприятель начал брать верх, он таким зычным голосом дал обет креститься в случае победы, что его услышало не только небо, но и множество галло-римских туземцев-христиан, бывших в его войске».

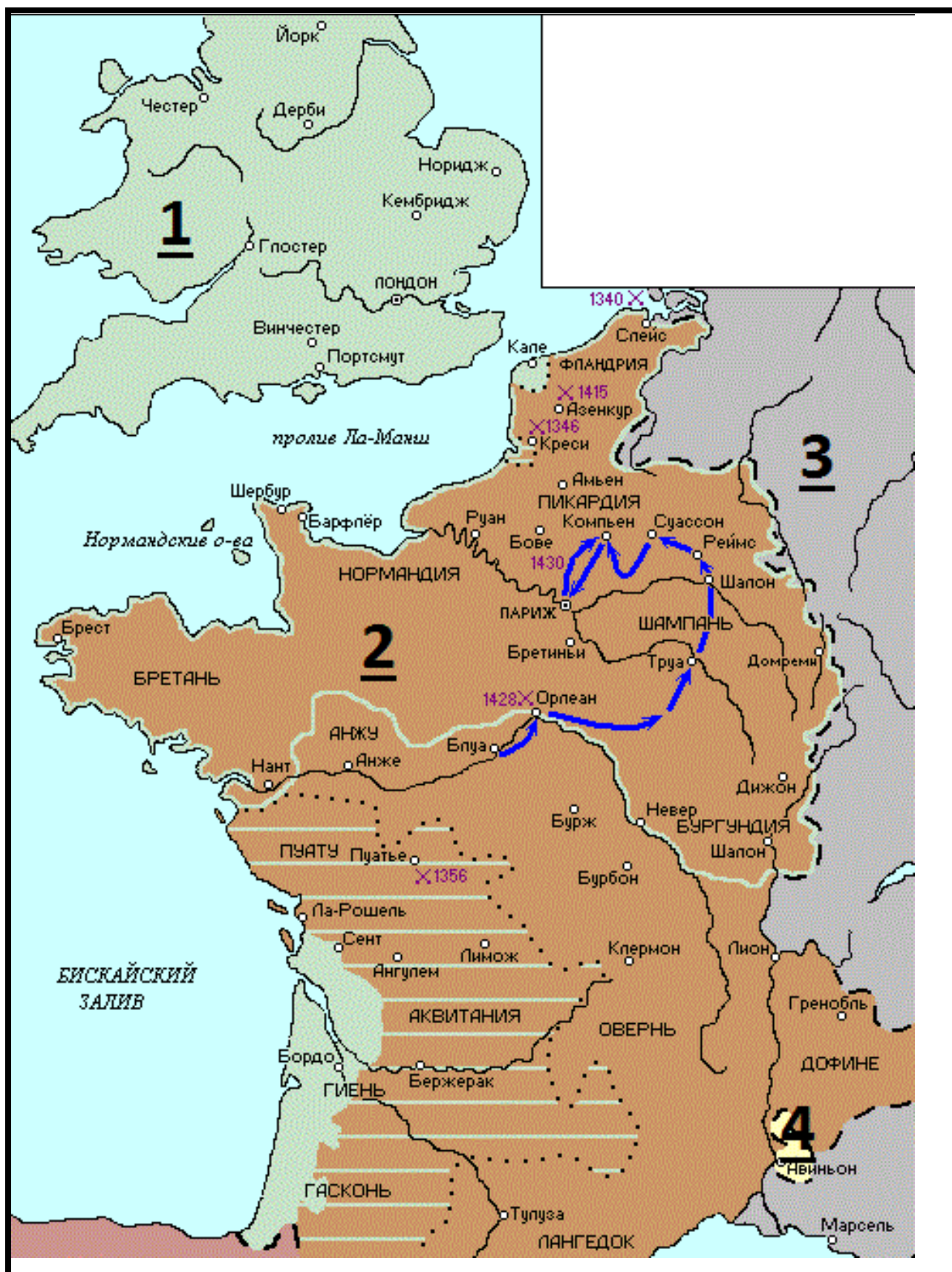
Ответ.

№	Вставка
1	
2	
3	
4	
5	

Максимум за задание – 10 баллов.

¹ «Трава не должна расти там, где ступит мой конь»

11. Внимательно рассмотрите схему и выполните предложенные задания.



11.1. Назовите государство, территория которого обозначена на схеме цифрой «1».

11.2. Укажите название войны, события которой отображены на территории государства, обозначенного на схеме цифрой «2». Укажите годы этой войны.

11.3. Назовите государство, территория которого обозначена на схеме цифрой «3».

11.4. Назовите национальную героиню государства, обозначенного на схеме цифрой «2», деятельность которой связана с событиями, обозначенными на карте.

11.5. Укажите, какой известный процесс происходил в тот же период, когда происходила война, событиям которой посвящена схема, в течение 69 лет на территории области, обозначенной на схеме цифрой «4».

Ответ.

11.1. _____

11.2. _____

11.3. _____

11.4. _____

11.5. _____

Максимум за задание – 12 баллов.

12. Перед Вами изображения трёх русских правителей Российского государства и изображения трёх русских церковных деятелей. Ваша задача – назвать их и сопоставить современников.

Правители

1)



2)



3)



Церковные деятели:

А)



Б)



В)



Запишите в таблицу имена правителей в хронологической последовательности их деятельности. Сопоставьте имена правителей с изображением современника — церковного деятеля: впишите буквенное обозначение изображения церковного деятеля — современника каждого правителя в соответствующие графы таблицы, назовите имена церковных деятелей.

Номер изображе- ния правителя	Имя правителя (указывается в хронологической последовательности)	Буквенное обозначение изображения церковного деятеля	Имя церковного деятеля

Максимум за задание – 13 баллов.

13. Прочитайте отрывок из исторического источника выполните задания.

«Царь же и великий князь всея Руси с великой любовью и неизречённой радостью встречает патриарха Иеремию. Потом благочестивый царь и великий князь всея Руси намерение своё царское изъявляет, да поставит патриарх Иеремия в богохранимой державе Великой России патриарха по правилам святых апостолов и святых отцов. Выслушав намерение благочестивого царя, патриарх был весьма удивлён тем, сколь велико царское стремление к благочестию, и стал размышлять, как бы возвести на престол Русской митрополии патриарха, ибо по заветам святых апостолов и заповедям святых отцов надлежит быть только четырём вселенским патриархам: в Великой Антиохии, в Иерусалиме, в Константинополе и в Александрии; пятый же патриарх – это папа в Риме. Зная, что римский папа много лет тому назад от благочестия отступил и от истинной христианской веры отпал, памятуя также, что ныне царственным градом Константина владеют неверные и что они ненавидят благочестивую веру и повсюду её преследуют; убедившись, что в Великой России издревле процветает неколебимое православие, как солнце, на тверди небесной сияющее; особенно же узрев неизречённую красоту знаменитейшего храма Успения Божией Матери, осмотрев почитаемые златокованные гробницы, в которых, как некое многоценное сокровище, покоятся великие чудотворцы, русские митрополиты Пётр, Алексей и Иона; увидев в благочестивом царе и великом князе всея Руси сердечное усердие и веру в Бога и великое прилежание и неустанное попечение о благоденствии всех благочестивых народов, исповедующих православное христианство, патриарх Иеремия, подивившись всему этому, воздав хвалу всемогущему Богу и возложив упование на милость от превеликих его щедрот, поставляет в Великой России на Русскую митрополию патриарха – тогдашнего митрополита Иова.

13.1. Когда произошла встреча русского царя и патриарха, описанная в отрывке? Укажите год.

13.2. Назовите русского царя, упоминаемого в отрывке. Из какой династии русских правителей он происходил?

13.3. Как автор текста объясняет, почему патриарх Иеремия согласился на доводы русского царя? Укажите две причины.

13.4. О каком событии автор написал: «...римский папа много лет тому назад <...> от истинной христианской веры отпал»? Когда произошло это событие?

13.5. Какие известные иерархи русской церкви упоминаются в тексте? Укажите трёх из них, отметив время их деятельности с точностью до половины века.

Ответы.

13.1.

13.2.

13.3.

13.4.

13.5.

Максимум за задание – 20 баллов.

Максимум за работу – 95 баллов.